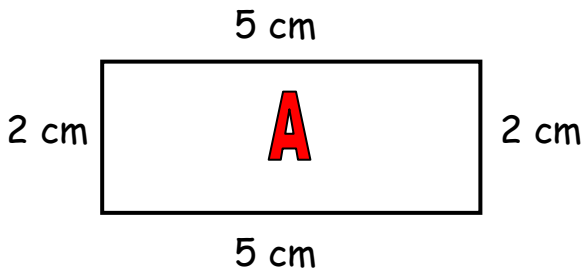


ΜΑΘΗΜΑΤΙΚΑ Β΄

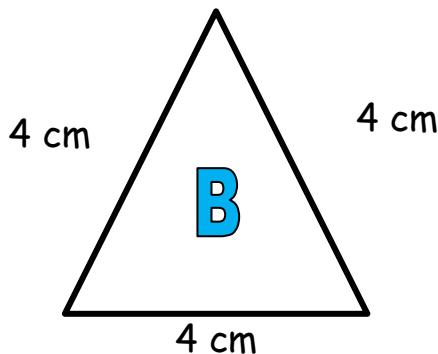
Περίμετρος

Όνομα: _____ Τάξη: _____ Ημερομηνία: _____

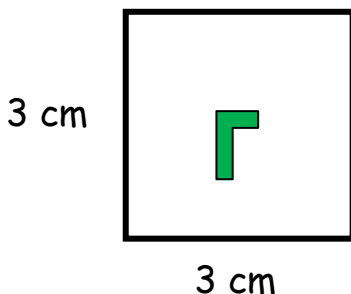
1. Βρίσκω την περίμετρο των παρακάτω σχημάτων.



Περίμετρος Α: _____ + _____ + _____ + _____ = _____ cm



Περίμετρος Β: _____ + _____ + _____ = _____ cm



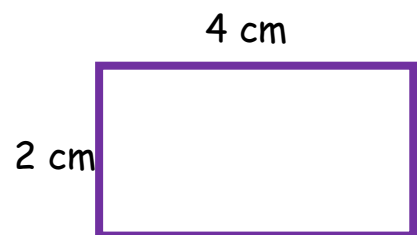
Περίμετρος Γ: _____ + _____ + _____ + _____ = _____ cm

ή _____ Χ _____ = _____ cm

Θυμάμαι ότι:

Για να βρω την **περίμετρο** ενός σχήματος (το γύρω-γύρω) πρέπει να βρω το άθροισμα του μήκους των πλευρών του.

π.χ.



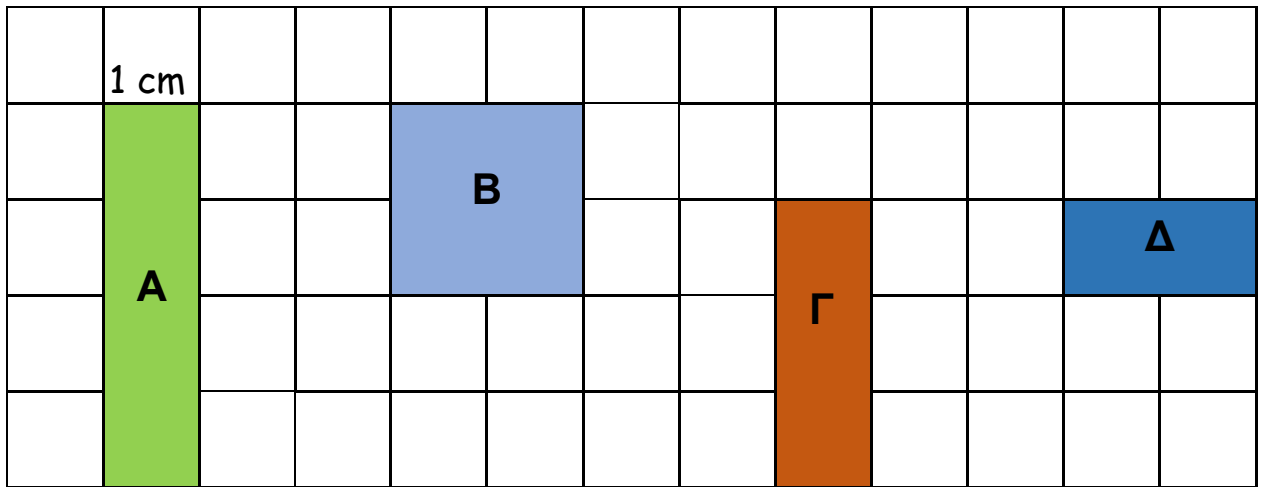
Περίμετρος ορθογωνίου

$$4+2+4+2 = 12 \text{ cm}$$

$$\text{ή } 2 \times (4+2) = 2 \times 6 = 12 \text{ cm}$$



2. Βρίσκω την περίμετρο του κάθε σχήματος. Στη συνέχεια, βρίσκω ποιο από τα σχήματα έχει τη μεγαλύτερη περίμετρο.




A = _____ cm B = _____ cm Γ = _____ cm Δ = _____ cm

Μεγαλύτερη Περίμετρο έχει το σχήμα _____.



3. Σχεδιάσε ένα **τετράγωνο** με πλευρά 5 cm στο τετραγωνισμένο χαρτί πιο κάτω ή στο τετράδιό σου. Ακολούθως, σχεδιάσε ένα δικό σου **ορθογώνιο**. Υπολόγισε την περίμετρο των δύο σχημάτων που σχεδίασες.



Περίμετρος **τετραγώνου**: _____

Περίμετρος **ορθογωνίου**: _____