



1. Συμπληρώσε τους αριθμούς που γείτουν από τα βαγόνια του τρένου.



2. Συμπληρώσε:

1 δεκάδα = _____

10 δεκάδες = _____

3 δεκάδες = _____

7 δεκάδες = _____

4 δεκάδες = _____

2 δεκάδες = _____

5 δεκάδες = _____

6 δεκάδες = _____

8 δεκάδες = _____

9 δεκάδες = _____

3. Συμπληρώσε:

10 = _____ δεκάδα

100 = _____ δεκάδες

20 = _____ δεκάδες

70 = _____ δεκάδες


60 = _____ δεκάδες

30 = _____ δεκάδες


80 = _____ δεκάδες

50 = _____ δεκάδες


4. Πόσα είναι:




Τα μογύβια του Νίκου είναι _____.



Τα μογύβια της
Φρόσως είναι _____.



Τα μογύβια της Μαρίας είναι _____.



5. Χρωματίζω τόσα κουτάκια όσα γέει ο αριθμός.

